



ESCOLA EB 2,3/S CUNHA RIVARA DE ARRAIOLOS  
ANO LECTIVO 2012/2013  
CIÊNCIAS NATURAIS – 8º ANO

FICHA DE TRABALHO 1.8





Nome: \_\_\_\_\_ N.º: \_\_\_\_\_ Data: \_\_\_\_\_  
Professora: \_\_\_\_\_

Tema: Ecossistemas

Objetivo: Organizar hierarquicamente os componentes de um ecossistema.

1. O Planeta Terra, único do sistema solar onde existem condições para o desenvolvimento de vida, apresenta grande diversidade de seres vivos.

Observa com atenção as figuras seguintes e responde às questões apresentadas.



1.1. Preenche os espaços nas caixas de texto, utilizando os termos adequados da chave.

**Chave**

- Espécie
- Comunidade
- Habitat ou Biótopo
- Ecossistema
- População

1.2. Como é constituído este ecossistema?

---

---

---

1.3. Refere como é constituída a comunidade deste ecossistema.

---

---

---

1.4. Indica as populações que observas nas imagens

---

---

1.5. Como se relacionam os seres vivos deste ecossistema?

---

---

---

---

---

1.6. Define espécie

---

---

---

Bom trabalho!